




国語辞典じてんを使おう

(1) 名前

(1) 国語辞典は、どのようなときに使いますか。三つえらんで○をつけましょう。

(10×3)


- ① () 漢字の書き順しゅんを知りたいとき
- ② (○) 言葉の意味を知りたいとき
- ③ (○) 漢字での書き表し方を知りたいとき
- ④ () 漢字の読み方を知りたいとき
- ⑤ (○) 言葉の使い方を知りたいとき



(2) 国語辞典に出ている順に、番号を書きましょう。(1から10まで)
(国語辞典では、言葉が「あ」で始まるものから、五十音順にならべてあります。)

(3×10)

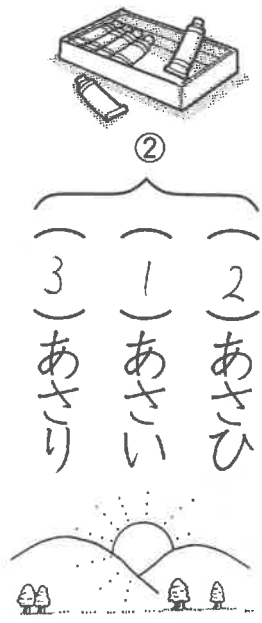
- (1) あひる (4) かえる (3) うなぎ (6) くま
- (2) いぬ (7) さる (10) らくだ (8) しか
- (9) たぬき (5) きつね




(3) 国語辞典に出ている順に、番号を書きましょう。(1から3まで)
(二字目が同じときは、二字目の五十音順に、二字目が同じときは、三字目の五十音順に...というようにならべてあります。)

(8×5)

- ① (3) あか (2) あさひ
- (2) あお (1) あさい
- (1) あい (3) あさり



- ④ (1) かき
- (3) かきどめ
- (2) かきつばた



あまりのあるわり算②名

(1あたりの数を求める)

前

- ① 21このキャンディを6人で同じ数ずつ分けると、1人分は何こになりますか。また、あまりは何こでしょう。



$$\text{式 } 21 \div 6 = 3 \text{ 残り } 3$$

3こ残り3こ

- ② 33このなしがあります。5つのふくろに同じ数ずつ入れると、1ふくろ何こ入りますか。また、何こあまりますか。

$$\text{式 } 33 \div 5 = 6 \text{ 残り } 3$$

6こ残り3こ

- ③ ボールが65こあります。8人に同じ数ずつあげると、1人分は何こになりますか。また、何こあまりますか。

$$\text{式 } 65 \div 8 = 8 \text{ 残り } 1$$

8こ残り1こ

- ④ ぎょうざが54こあります。7人で同じ数ずつ食べると、1人何こずつ食べられますか。また、何こあまりますか。

$$\text{式 } 54 \div 7 = 7 \text{ 残り } 5$$

7こ残り5こ

- ⑤ えんぴつが28本あります。同じ数ずつ3たばにしてプレゼントします。1たばのえんぴつは何本になって、何本あまるでしょう。

$$\text{式 } 28 \div 3 = 9 \text{ 残り } 1$$

9本残り1本



あまりのあるわり算③名

(1あたりの数を求める)

前

- ① 60このビー玉があります。8人で同じ数ずつ分けると、1人分は何こになって、何このこるでしょう。

$$\text{式 } 60 \div 8 = 7 \text{ 残り } 4$$

7このこり4こ

- ② 50ぴきの魚を同じ数ずつ9人で分けます。1人分は何ぴきで、何ぴきのこるでしょう。

$$\text{式 } 50 \div 9 = 5 \text{ 残り } 5$$

5ひきのこり5ひき

- ③ チョコパイが38こあります。5人で同じ数ずつ分けると、1人何こになりますか。また、何こあまりますか。

$$\text{式 } 38 \div 5 = 7 \text{ 残り } 3$$

7こ残り3こ

- ④ いちごが31こあります。8人で同じ数ずつ分けると、1人何こになりますか。また、何こあまりますか。

$$\text{式 } 31 \div 8 = 3 \text{ 残り } 7$$

8こ残り7こ



- ⑤ びわが62こありました。お皿9まいに同じ数ずつのせると、1皿何こになりますか。また、何こあまりますか。

$$\text{式 } 62 \div 9 = 6 \text{ 残り } 8$$

6こ残り8こ






国語辞典じてんを使う


(2)

名前

(1) 国語辞典で先に出てくる言葉に○をしましょう。
(せい音↓だく音(ゝ)↓半だく音(。))の順にならべてあります。

(5×6)




① () ○ () ふた	② () () ごま	③ () () ギる
() () ぶた	() ○ () こま	() ○ () ギる
		

④ () ○ () くぎ	⑤ () () ばらばら	⑥ () ○ () かんぱん
() () くぎ	() ○ () ばらばら	() () かんぱん
		

(2) 国語辞典で先に出てくる言葉に○をしましょう。
(大きく書くかな↓小さく書くかな)「っ」「ゃ」「ゅ」「よ」の順にならべてあります。

(8×5)



① () () びょういん	② () () いしや	
() ○ () びょういん	() ○ () いしや	
		

③ () ○ () ひやく	④ () ○ () はつか	⑤ () ○ () じゆう
() () ひやく	() () はつか	() () じゆう
		

(3) 国語辞典で先に出てくる言葉に○をしましょう。
(ひらがな↓カタカナの順にならべてあります。カタカナの長くのはす(ー)ときは、声に出したときのア・イ・ウ・エ・オの音と同じところに出ています。)

(5×6)

① () () ボタン	② () ○ () ボール	③ () ○ () ラーメン
() ○ () ぼたん	() () ボール	() () ライオン
		

④ () ○ () コーチ	⑤ () () ガラス	⑥ () ○ () ブルドーザー
() () コーチ	() ○ () からす	() () ブルドッグ
		

表とグラフ①



名前

① 右のぼうグラフは、クラスで好きなくだものをしらべたものです。

① 好きな人数の多かったくだものから、じゅんに ()にかきましょう。

(1) (いちご) (2) (バナナ)

(3) (ぶどう) (4) (りんご)

(5) (みかん)

② グラフの1めもりは何人を表していますか。
(5)人

③ バナナとみかんのちがいは何人ですか。
(3)人

② 右のぼうグラフは、どんなおてつだいをしているかしらべたものです。

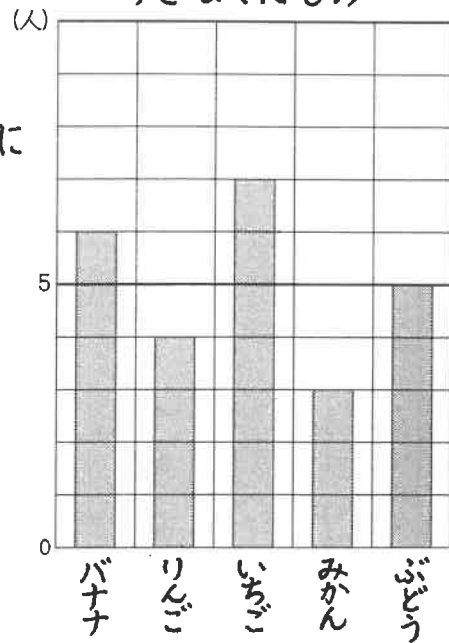
① いちばん多いおてつだいは何ですか。
(ペットのせわ)

② いちばん少ないおてつだいは何ですか。
(おっかい)

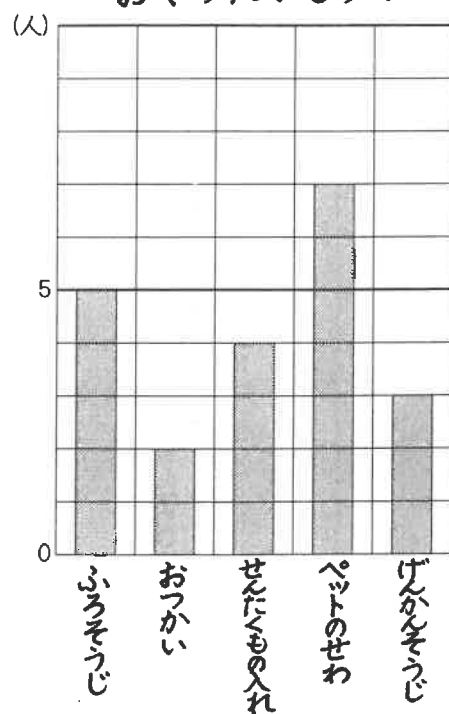
③ ふろそうじをする人は何人ですか。
(5)人

④ ペットのせわとおっかいとのちがいは何人ですか。
(5)人

好きなくだもの



おてつだいしらべ



表とグラフ②



名前

① 右のグラフは、3年生が6月にけがをした人数をしらべたものです。

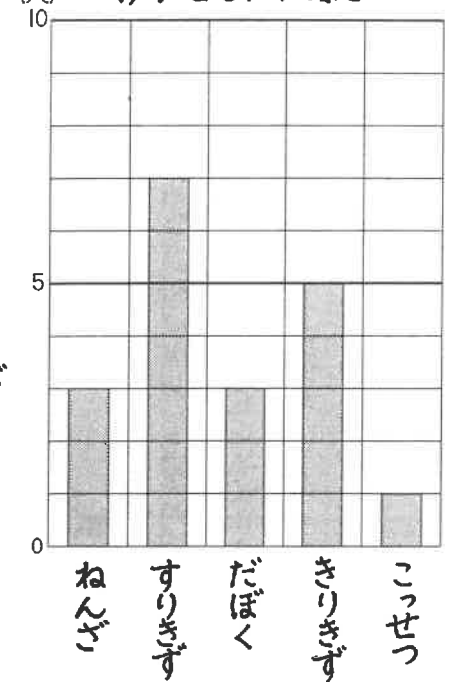
① いちばん多いけがは何ですか。
(すりきず)

② 人数が同じけがは何と何ですか。
(ねんざ) (だぼく)

③ すりきずとこっせつとでは、何人のちがいがあ
るでしょうか。
(6)人



けがをした人数



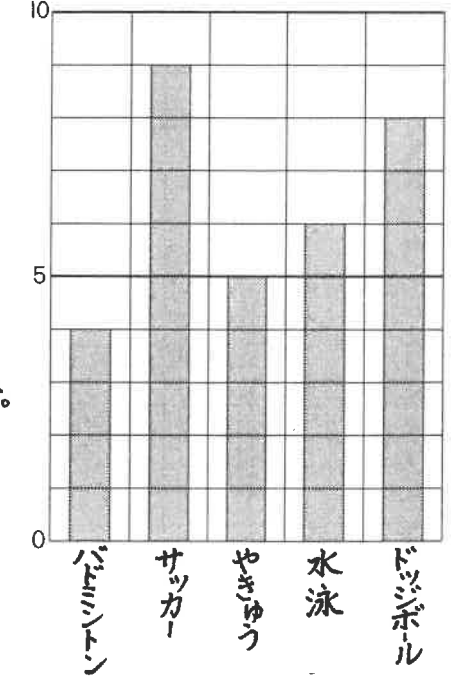
② 右のグラフは、好きなスポーツをしらべたものです。

① 右のようなグラフを何グラフといいますか。
(ぼうグラフ)

② いちばん人数が多いのはどのスポーツで、何人ですか。
(サッカー) で (9)人

③ 3番目に好きな人が多いスポーツは何ですか。
(水泳)

好きなスポーツ





へんとつくり(部首)

(1)

名前

(1) 漢字の組み立てについて、次の(一)に合う言葉を書き入れましょう。

(2×5)

漢字には右と左に分けられるものがあります。そのとき、左がわの部分を一へん、右がわ部分を(つくり)といいます。

(2) れいのように右と左の漢字の部分(へんとつくり)を組み合わせて、一つの漢字を作りましょう。

(6×10)

⑤	④	③	②	①	⑤	④	③	②	①
言	糸	イ	日	木	言	糸	イ	日	木
ごんべん	いとへん	にんべん	ひへん	きへん	ごんべん	いとへん	にんべん	ひへん	きへん
+	+	+	+	+	+	+	+	+	+
舌	会	木	寺	交	舌	会	木	寺	交
↓	↓	↓	↓	↓	↓	↓	↓	↓	↓
話	絵	休	時	校	話	絵	休	時	校
♣ ♠ ♥ ◆									
⑩	⑨	⑧	⑦	⑥	⑩	⑨	⑧	⑦	⑥
土	禾	イ	女	才	土	禾	イ	女	才
つちへん	のぎへん	ぎょうにんべん	おんなへん	てへん	つちへん	のぎへん	ぎょうにんべん	おんなへん	てへん
+	+	+	+	+	+	+	+	+	+
反	火	予	市	合	反	火	予	市	合
↓	↓	↓	↓	↓	↓	↓	↓	↓	↓
坂	秋	行	姉	拾	坂	秋	行	姉	拾

(3) 次の部分をもつ漢字は、どんな事からにかん係がありますか。□からえらんで(一)に書きましょう。

(6×5)

⑤	④	③	②	①
木	イ	ニ	才	言
きへん	にんべん	さんずい	てへん	ごんべん

柱・植・板	仕・作・住	池・泳・港	投・指・打	談・読・記
-------	-------	-------	-------	-------



(木)	(人)	(水)	(手)	(言葉)
-----	-----	-----	-----	------

手・水・言葉・火・木・人・心・土

なに算かな ①

名前

- ① 30まいのビスケットを5人で同じ数ずつ分けます。1人分は何まいですか。

式 $30 \div 5 = 6$

6まい

- ② パン屋さんが、朝パンを46こやきました。昼から、また78こやきました。全部で何こやきましたか。

式 $46 + 78 = 124$

124こ

- ③ あやのさんは、つくしを453本つみしました。妹は384本つみしました。ちがいは何本でしょうか。

式 $453 - 384 = 69$

69本

- ④ 1こ45円のおまんぱんを38こ買いました。代金は何円になるでしょうか。

式

- ⑤ 36dLのお茶を4dLずつ水とうに入れると、水とう何本分あるでしょうか。

式 $36 \div 4 = 9$

9本



$\begin{array}{r} 46 \\ + 78 \\ \hline 124 \end{array}$	
$\begin{array}{r} 453 \\ - 384 \\ \hline 69 \end{array}$	

なに算かな ②



名前

- ① お店におにぎりが327こありました。248こ売れました。何このこっているでしょうか。

式 $327 - 248 = 79$

79こ

- ② 45まいのおり紙があります。1人に5まいずつあげると、何人にあげられますか。

式 $45 \div 5 = 9$

9人

- ③ 魚を何びきかつりました。そのうち29びきを、おとなりにあげたので、のこりが36びきになりました。何びきつったのでしょうか。

式 $29 + 36 = 65$

65びき

- ④ えんぴつが12本入った箱が15箱あります。えんぴつは全部で何本あるでしょうか。

式



- ⑤ 32このチョコレートが4こずつふくろに入れます。何ふくろできますか。

式 $32 \div 4 = 8$

8ふくろ

$\begin{array}{r} 327 \\ - 248 \\ \hline 79 \end{array}$
$\begin{array}{r} 29 \\ + 36 \\ \hline 65 \end{array}$



へんとつくり(部首)

(2)

名前

Blank box for writing the name.

(1) 次の漢字の□の部分は何という名前ですか。□からえらんで()に書きましょう。

① 顔 (お お が い)

② 横 (き へ ん)

③ 波 (さ ん ず い)

④ 放 (の ぶ ん)

⑤ 動 (ち か ら)



⑥ 紙 (い と へ ん)

⑦ 曜 (ひ へ ん)

⑧ 列 (り と う)

⑨ 転 (く る ま へ ん)

⑩ 詩 (ご ん べ ん)



いとへん りつとう おおがい ひへん ごんべん
きへん くるまへん さんずい のぶん (ぼくによう) ちから

(2) へれいのように、それぞれのせつめいに合う漢字を書きましょう。


へれい 「てへん」に「てら」



① 「いとへん」に「ひがし」

② 「ごんべん」に「した(舌)」

③ 「ひへん」に「つき」



④ 「のぎへん」に「すこししょう」

⑤ 「きへん」に「き」



⑥ 「くちへん」に「とり」



⑦ 「にんべん」に「ほん」



⑧ 「まめ」に「おおがい」



頭 体 鳴 林 秘 明 話 練 持

(5x8)

(6x10)