



国語辞典じごんを使おう

(1) 名前


(1) 国語辞典は、どのようなときに使いますか。三つえらんで○をつけましょう。
(10×3)

- ① () 漢字の書き順しゅんを知りたいとき
- ② () 言葉の意味を知りたいとき
- ③ () 漢字での書き表し方を知りたいとき
- ④ () 漢字の読み方を知りたいとき
- ⑤ () 言葉の使い方を知りたいとき



(2) 国語辞典に出ている順に、番号を書きましょう。(1から10まで)
(国語辞典では、言葉が「あ」で始まるものから、五十音順にならべてあります。)
(3×10)

- () あひる
- () いぬ
- () たぬき
- () かえる
- () さる
- () きつね
- () うさぎ
- () らくだ
- () くま
- () しか



(3) 国語辞典に出ている順に、番号を書きましょう。(1から3まで)
(一文字目が同じときは、二文字目の五十音順に、二文字目が同じときは、三文字目の五十音順に...というようにならべてあります。)
(8×5)

①

- () あか
- () あお
- () あい



②

- () あさひ
- () あさい
- () あさり




③

- () いす
- () いし
- () いるか





④

- () かき
- () かきどめ
- () かきつばた



⑤

- () うきわ
- () うす
- () うし

あまりのあるわり算② 名

(1あたりの数を求める)

前

- ① 21このキャンディを6人で同じ数ずつ分けると、1人分は何こになりますか。また、あまりは何こでしょう。



式

- ② 33このなしがあります。5つのふくろに同じ数ずつ入れると、1ふくろ何こ入りますか。また、何こあまりですか。

式

- ③ ボールが65こあります。8人に同じ数ずつあげると、1人分は何こになりますか。また、何こあまりですか。

式

- ④ ぎょうざが54こあります。7人で同じ数ずつ食べると、1人何こずつ食べられますか。また、何こあまりですか。

式

- ⑤ えんぴつが28本あります。同じ数ずつ3たばにしてプレゼントします。1たばのえんぴつは何本になって、何本あまるでしょう。

式



あまりのあるわり算③ 名

(1あたりの数を求める)

前

- ① 60このビー玉があります。8人で同じ数ずつ分けると、1人分は何こになって、何このこるでしょう。

式

- ② 50ぴきの魚を同じ数ずつ9人で分けます。1人分は何びきで、何びきのこるでしょう。

式

- ③ チョコパイが38こあります。5人で同じ数ずつ分けると、1人何こになりますか。また、何こあまりですか。

式

- ④ いちごが31こあります。8人で同じ数ずつ分けると、1人何こになりますか。また、何こあまりですか。

式



- ⑤ びわが62こありました。お皿9まいに同じ数ずつのせると、1皿何こになりますか。また、何こあまりですか。

式



国語辞典じてんを使う

(2)

名前

(1) 国語辞典で先に出てくる言葉に○をしましょう。

(5×6)

(せい音↓たく音(ゝ)↓半たく音(。))の順にならべてあります。

① () ふた



② () こま



③ () ざる



④ () くぎ



⑤ () ばらばら

⑥ () かんぱん

(2) 国語辞典で先に出てくる言葉に○をしましょう。

(8×5)

(大きく書くかな↓小さく書くかな「っ」「ゃ」「ゅ」「ょ」の順にならべてあります。)

① () びょういん



② () いしや



③ () ひやく



④ () はつか



⑤ () じゆう



(3) 国語辞典で先に出てくる言葉に○をしましょう。

(5×6)

(ひらがな↓カタカナの順にならべてあります。カタカナの長くのはす(ー)ときは、声に出したときのア・イ・ウ・エ・オの音と同じところに出ています。)


① () ボタン



② () ボール



③ () ラーメン



④ () コーチ



⑤ () ガラス



() ブルドーザー

() こおり



() からす

() ブルドッグ

表とグラフ①



名前

① 右のぼうグラフは、クラスで好きなくだものをしらべたものです。

① 好きな人数の多かったくだものから、じゅんに ()にかきましょう。

(1) () (2) ()

(3) () (4) ()

(5) ()

② グラフの1めもりは何人を表していますか。

()人

③ バナナとみかんのちがいは何人ですか。

()人

② 右のぼうグラフは、どんなおてつだいをしているかしらべたものです。

① いちばん多いおてつだいは何ですか。

()

② いちばん少ないおてつだいは何ですか。

()

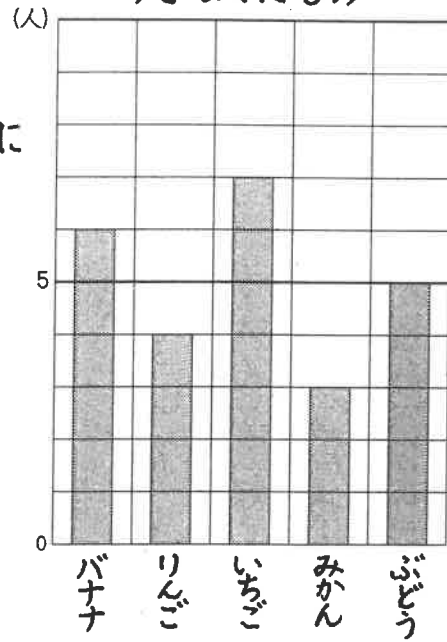
③ ふろそうじをする人は何人ですか。

()人

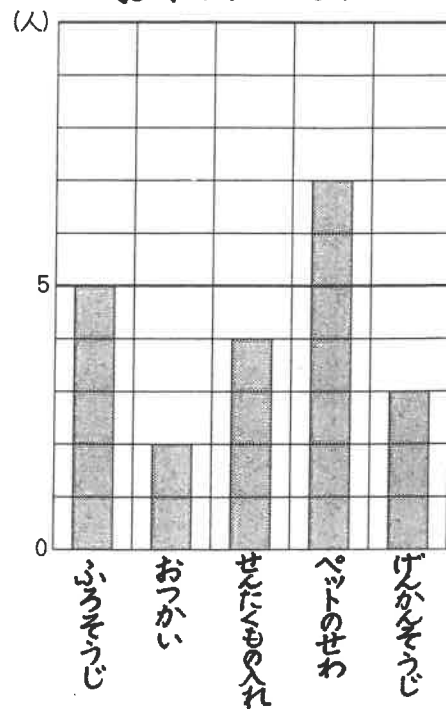
④ ペットの世話とおつかいとちがいは何人ですか。

()人


好きなくだもの



おてつだいしらべ



表とグラフ②



名前

① 右のグラフは、3年生が6月にけがをした人数をしらべたものです。

① いちばん多いけがは何ですか。

()

② 人数が同じけがは何と何ですか。

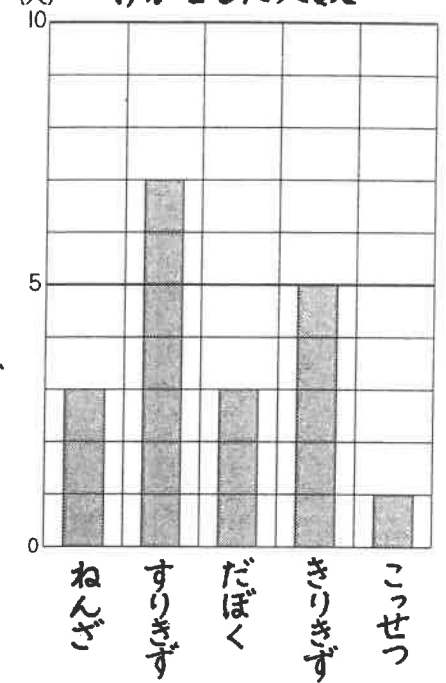
()()

③ すりきずとこっせつとでは、何人のちがいがあつてしょうか。

()人



けがをした人数



② 右のグラフは、好きなスポーツをしらべたものです。

① 右のようなグラフを何グラフといいますか。

()

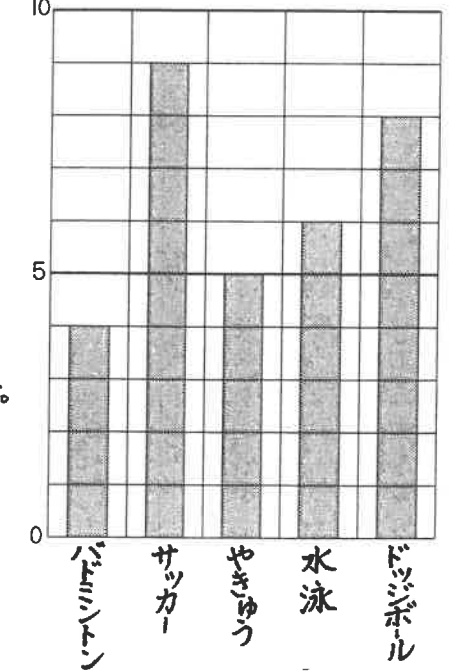
② いちばん人数が多いのはどのスポーツで、何人ですか。

()で()人

③ 3番目に好きな人が多いスポーツは何ですか。

()

好きなスポーツ





へんとつくり(部首)

(1) 名前

Blank box for writing a name.

(1) 漢字の組み立てについて、次の(一)に合う言葉を書き入れましょう。

(2×5)

漢字には右と左に分けられるものがあります。そのとき、左がわの部分を(一)、右がわの部分を(二)といいます。

(2) れいのように右と左の漢字の部分(へんとつくり)を組み合わせて、一つの漢字を作りましょう。

へい
さんずい

十 毎

(6×10)

⑤ 言 ごんべん	④ 糸 いとへん	③ イ にんべん	② 日 ひへん	① 木 きへん
+	+	+	+	+
舌	会	木	寺	交
↓	↓	↓	↓	↓
<input type="text"/>	<input type="text"/>	<input type="text"/>	<input type="text"/>	<input type="text"/>
♣ ♠ ♥ ◆				
⑩ 土 つちへん	⑨ 禾 のぎへん	⑧ イ ぎょうにんべん	⑦ 女 おんなへん	⑥ 才 てへん
+	+	+	+	+
反	火	孑	市	合
↓	↓	↓	↓	↓
<input type="text"/>	<input type="text"/>	<input type="text"/>	<input type="text"/>	<input type="text"/>

(3) 次の部分をもつ漢字は、どんな事がらにかん係がありますか。□からえらんで(一)に書きましょう。

(6×5)

⑤ 木 きへん	④ イ にんべん	③ シ さんずい	② 才 てへん	① 言 ごんべん
---------------	----------------	----------------	---------------	----------------

柱・植・板	仕・作・住	池・泳・港	投・指・打	談・読・記
-------	-------	-------	-------	-------



()	()	()	()	()
()	()	()	()	()

手・水・言葉・火・木・人・心・土

なに算かな ①

名前

- ① 30まいのビスケットを5人で同じ数ずつ分けます。
1人分は何まいですか。

式

- ② パン屋さんが、朝パンを46こやきました。昼から、また78こやきました。全部で何こやきましたか。



- ③ あやのさんは、つくしを453本つみしました。妹は384本つみしました。ちがいは何本でしょうか。

式

- ④ 1こ45円のおまんこパンを38こ買いました。代金は何円になるでしょうか。

式

- ⑤ 36dLのお茶を4dLずつ水とうに入れると、水とう何本分あるでしょうか。



なに算かな ②



名前

- ① お店におにぎりが327こありました。248こ売れました。何このこっているでしょうか。

式

- ② 45まいのおり紙があります。1人に5まいずつあげると、何人にあげられますか。

式

- ③ 魚を何びきかつりました。そのうち29びきを、おとなりにあげたので、のこりが36びきになりました。何びきつったのでしょうか。

式

- ④ えんぴつが12本入った箱が15箱あります。えんぴつは全部で何本あるでしょうか。

式



- ⑤ 32このチョコレートが4こずつふくろに入れます。何ふくろできますか。

式



へんとつくり(部首)

(2)

名前

Blank box for writing the name.

(1) 次の漢字の□の部分は何という名前ですか。□からえらんで()に書きましょう。

① 顔

()

()

⑥ 紙

()

()

② 横

()

()

⑦ 曜

()

()

③ 波

()

()

⑧ 列

()

()

④ 放

()

()

⑨ 転

()

()

⑤ 動

()

()

⑩ 詩

()

()



いとへん りつとう おおがい ひへん ごんべん
きへん くるまへん さんずい のぶん (ぼくによう) ちから

(2) へれい<のように、それぞれのせつめいに合う漢字を書きましょう。

へれい<

「てへん」に「てら」





持

① 「いとへん」に「ひがし」

② 「ごんべん」に「した(舌)」

③ 「ひへん」に「つき」



④ 「のぎへん」に「すこししょう」

⑤ 「きへん」に「き」



⑥ 「くちへん」に「とり」



⑦ 「にんべん」に「ほん」



⑧ 「まめ」に「おおがい」



Row of 10 empty boxes for writing answers, with the last one containing the character '持'.

5x8

6x10